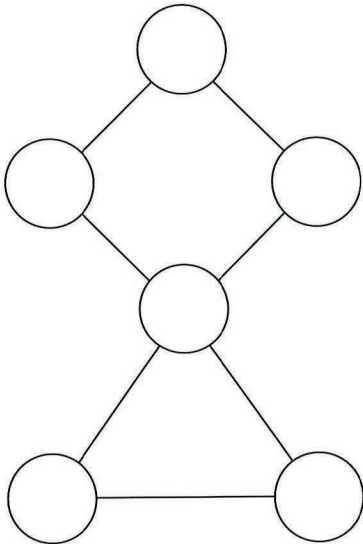


Zahlenspiel mit Figuren

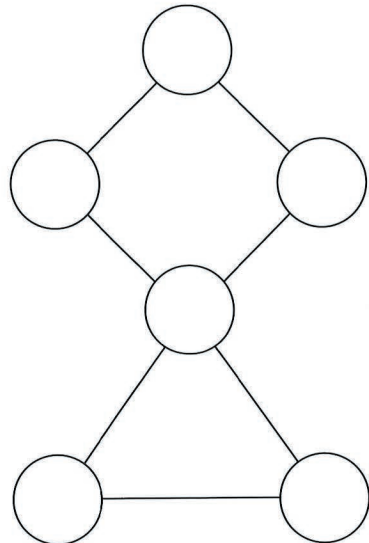


Schreibe die Zahlen 1 bis 6.
Im Quadrat soll die Summe der Zahlen
zweimal größer sein als im Dreieck.



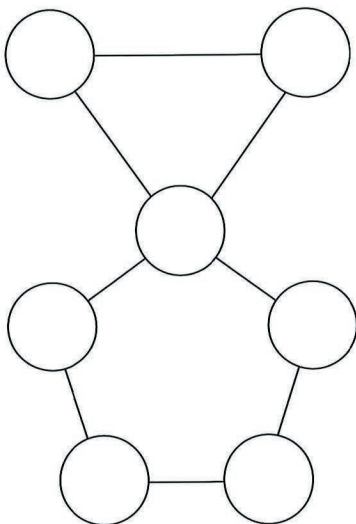
9

Schreibe die Zahlen 1 bis 6.
Im Quadrat soll die Summe der Zahlen
dreimal größer sein als im Dreieck.



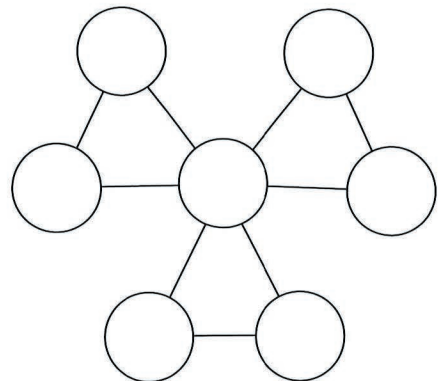
10

Schreibe die Zahlen 1 bis 7.
Im Dreieck und im Fünfeck soll die Summe
der Zahlen gleich sein.



11

Schreibe die Zahlen 1 bis 7.
In allen Dreiecken soll die Summe der Zahlen
gleich sein.



12